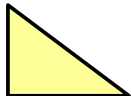



Inhalt




8x



1x



1x



1x

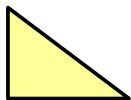
Aufgabe:

Legen Sie aus den Teilen zwei gleich große Quadrate.

Quadrat 1 besteht aus 4 Dreiecken und dem rosa Quadrat.

Quadrat 2 besteht aus 4 Dreiecken, dem grünen und dem blauen Quadrat.

Inhalt




8x



1x



1x



1x

OHP

Aufgabe:

Legen Sie aus den Teilen zwei gleich große Quadrate.

Quadrat 1 besteht aus 4 Dreiecken und dem rosa Quadrat.

Quadrat 2 besteht aus 4 Dreiecken, dem grünen und dem blauen Quadrat.