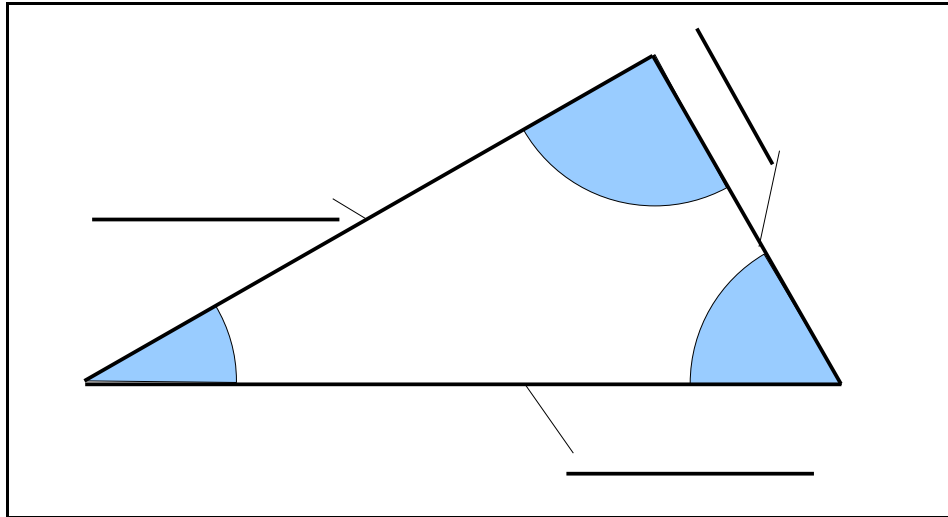


Dreiecke (2)

Das rechtwinklige Dreieck

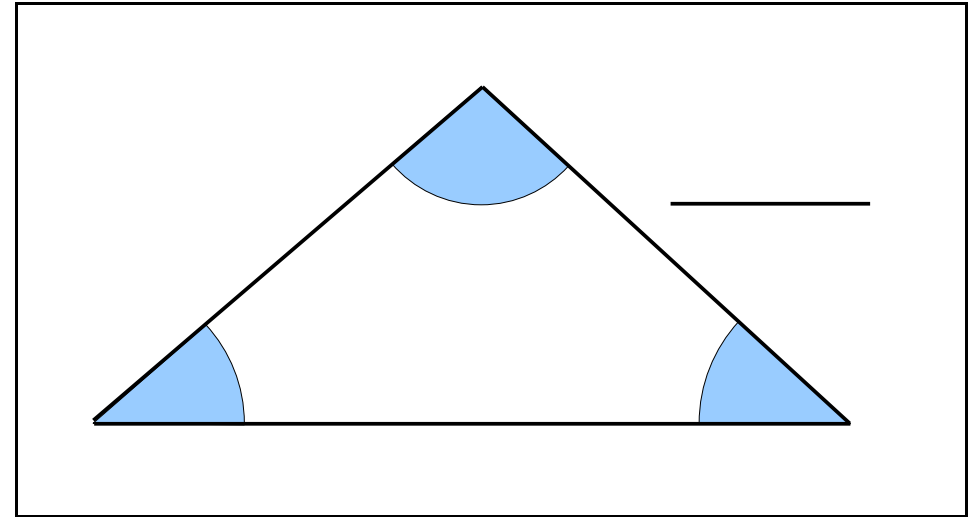


Merke:

Beachte:

Höhe eines Dreiecks

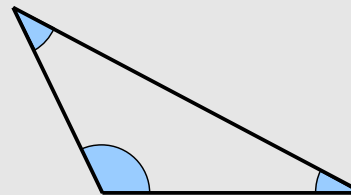
Definition



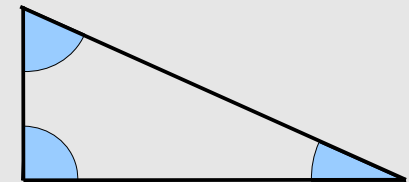
Merke:

Sonderfälle:

stumpfwinkliges Dreieck



rechtwinkliges Dreieck



Aufgaben

1. Zeichnen Sie ein Spitzwinkliges Dreieck und konstruieren Sie mit Zirkel und Lineal alle drei Höhen h_a , h_b und h_c .
2. Zeichnen Sie ein Stumpfwinkliges Dreieck und konstruieren Sie mit Zirkel und Lineal alle drei Höhen h_a , h_b und h_c .